



تجارب
علمية مبسطة
الأرقام والأعداد



DK دُورلِنغ كِنْدَرسلي

مَكْتَبَة لِبْنَان نَاشِرُون شَرِكَة

نَشْر مَكْتَبَة لِبْنَان نَاشِرُون
بِالتَّعَاوَن مَعَ شَرِكَة دُورلِنغ كِنْدَرسلي

حُقوق الطَّبْع © دُورلِنغ كِنْدَرسلي لِيْمْتَد، لَنْدَن - الطَّبْعَة الْإِنْكَلِيزِيَّة
حُقوق الطَّبْع © مَكْتَبَة لِبْنَان نَاشِرُون شَرِكَة - الطَّبْعَة الْعَرَبِيَّة
بِجَمِيعِ الْحَقُوقِ مَحْفُوظَة : لَا يَجُوزُ نَشْرُ أَيِّ جُزْءٍ مِنْ هَذَا الْكِتَابِ أَوْ تَصْوِيرِهِ
أَوْ تَخْزِينِهِ أَوْ تَسْجِيلِهِ بِأَيِّ وَسِيلَةٍ دُونَ مُوَافَقَةِ خَطِّيَّةِ مِنَ النَّاشِرِ.

مَكْتَبَة لِبْنَان نَاشِرُون

صُنْدُوقُ الْبَرِيدِ : ١١-٩٢٣٢

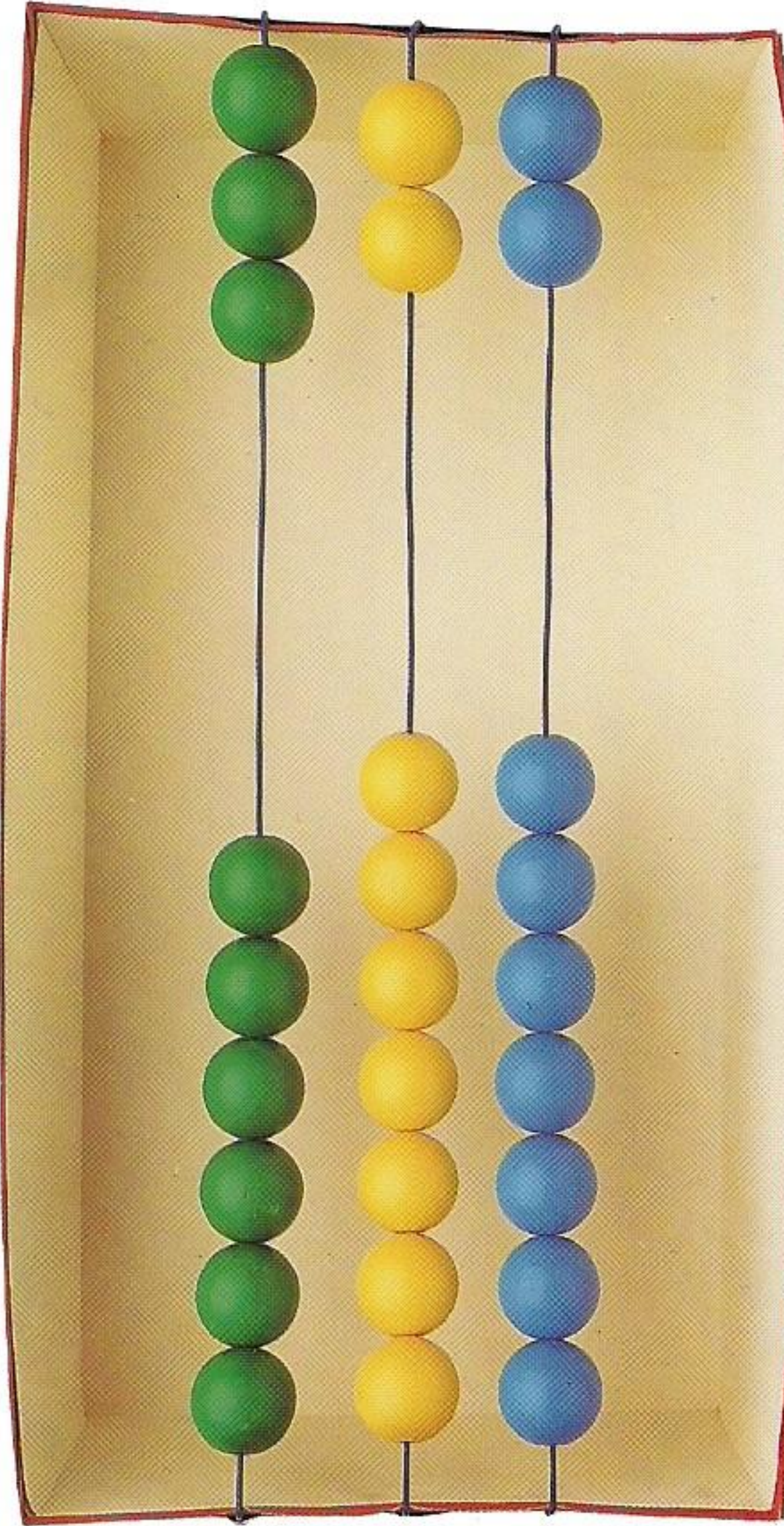
بِكَيْرُوت - لِبْنَان

وُكَلَاءُ وَمُوزَعُونَ فِي جَمِيعِ أَنْحَاءِ الْعَالَمِ

الطَّبْعَة الْأُولَى : ١٩٩٨

طُبْعَ فِي لِبْنَان

رَقْمُ الْكِتَابِ : 01C193265



كُتُبُ الْفَرَاشَةِ 🦋






سِلْسِلَة "تَجَارِبُ عِلْمِيَّة مُبَسَّطَة" :

- | | |
|-------------------------|-------------------------------------|
| ١ . الْمِغْنَطِيْسِيَّة | ٩ . الْحَوَاسِّ |
| ٢ . الْمَكَانَاتُ | ١٠ . الْمَجَازِبِيَّة الْأَرْضِيَّة |
| ٣ . الطَّاقَاة | ١١ . الْمَكَاء |
| ٤ . الضَّكَّوَاء | ١٢ . الْحَرَازَة |
| ٥ . الْكَهْرَبَاء | ١٣ . الْأَلْوَانُ |
| ٦ . الصَّكَّوَتُ | ١٤ . الْهَكَّوَاء |
| ٧ . الطَّطَّسُ | ١٥ . نُمُوالنَبَات |
| ٨ . الْحَرَكَة | ١٦ . الْأَرْقَامُ وَالْأَعْدَاد |

تَجَارِبُ عِلْمِيَّةٌ مُبَسَّطَةٌ الأرقام والأعداد

إعداد
الدكتور البير مطلق

مكتبة لبنات ناشرون



ما الأرقام؟

لا نَسْتَخْدِمُ الأَرْقَامَ لِتَدُلُّنَا فَقَطْ عَلَى العَدَدِ. نَحْتَاجُ إِلَى الأَرْقَامِ لِتَدُلُّنَا عَلَى العُمُرِ، وَالكَمِّيَّةِ، وَالبُعْدِ، وَالحَجْمِ. تَسْتَطِيعُ بالأَرْقَامِ أَنْ تَصِفَ العَدَدَ بِدِقَّةٍ. مِنْ غَيْرِهَا، لَا تَسْتَطِيعُ أَنْ تَعْرِفَ الوَقْتَ، وَتُتَلَفَنَ لِأَصْدِقَائِكَ، أَوْ تَعُدَّ مَا فِي جَيْبِكَ مِنْ نُقُودٍ. الأَرْقَامُ مُهِمَّةٌ لِلعُلَمَاءِ، الَّذِينَ يَحْتَاجُونَ إِلَى أَنْ يَقُومُوا بِتَجَارِبِهِمْ وَيُدَوِّنُوا نَتَائِجَهَا.



يَدَانِ مُسَعِفَتَانِ

نِظَامُ أَرْقَامِنَا مَبْنِيٌّ عَلَى العَدَدِ عَشْرَةٍ. لَعَلَّ السَّبَبَ فِي ذَلِكَ يَرْجِعُ إِلَى أَنَّ الْإِنْسَانَ الْقَدِيمَ حِينَ بَدَأَ يَعُدُّ، اسْتَعَانَ فِي ذَلِكَ بِأَصَابِعِهِ العَشْرِ.

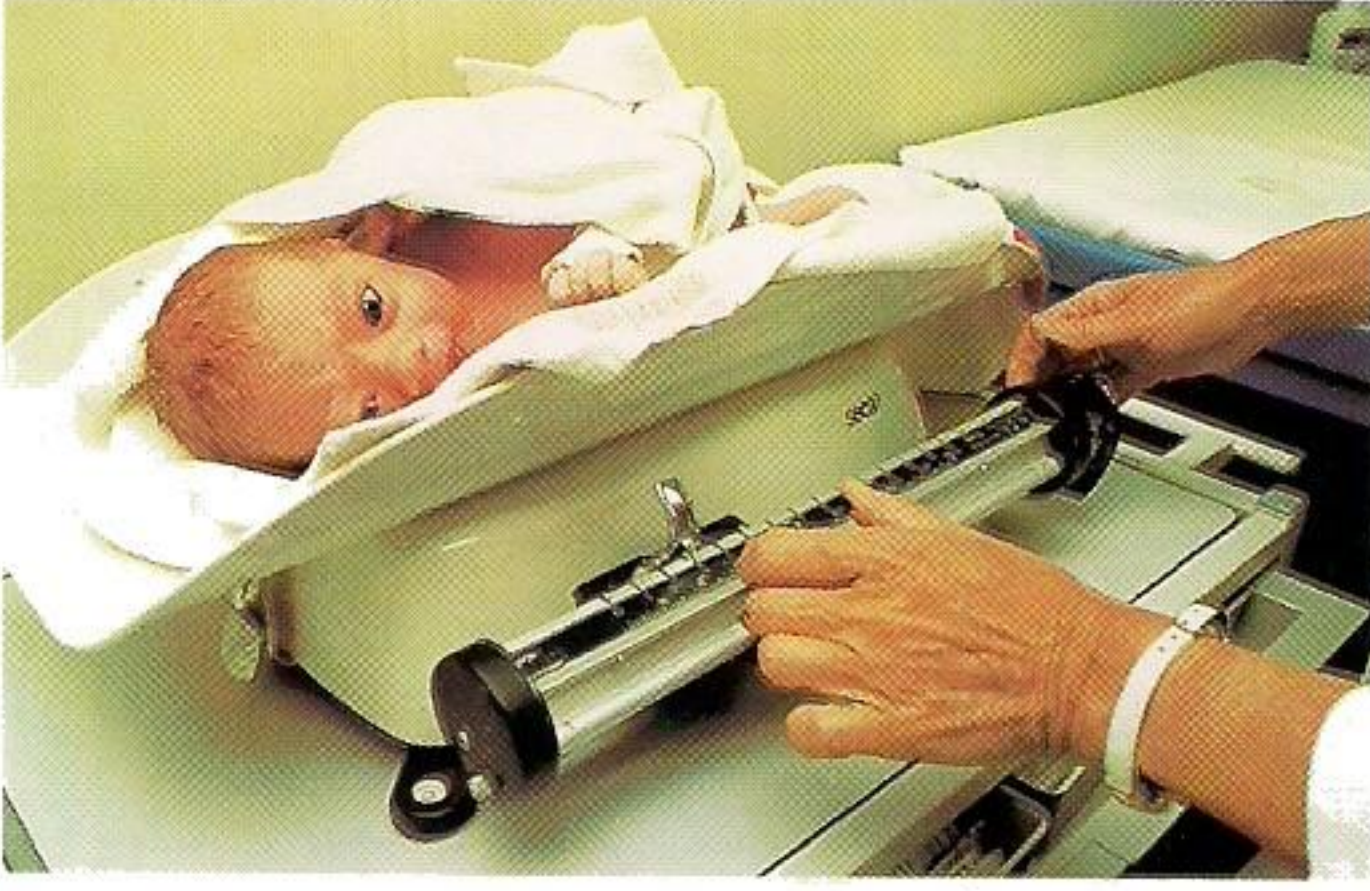
بِطَاقَةِ تَعْرِيفٍ

قَدْ تُعَرِّفُ الأَشْيَاءَ بِالأَرْقَامِ - بَدَلِ إِعْطَائِهَا أَسْمَاءً. هَذَا البَطْرِيقُ يَحْمِلُ بِطَاقَةَ تَعْرِيفٍ عَلَيْهَا رَقْمُهُ الخَاصُّ، وَهَكَذَا يُمَيِّزُهُ العُلَمَاءُ عَنِ سِوَاهُ.

عِيدُ مِيلَادِ سَعِيدٍ


مِنْ غَيْرِ أَرْقَامٍ، لَنْ تَعْرِفَ عَدَدَ الشُّمُوعِ الَّتِي عَلَيْكَ أَنْ تَضَعَهَا عَلَى كَعْكَةِ عِيدِ مِيلَادِكَ!





حَقَائِقُ فِي أَرْقَامِ

تُستَخدَمُ الأَرْقَامُ أَيضًا فِي تَدْوِينِ
المَعْلُومَاتِ عَنِ النَّاسِ . هَذَا الطِّفْلُ
الحَدِيثُ الوِلَادَةَ يُوزَنُ، وَيُدَوَّنُ وَزْنُهُ
فِي سِجِلِّ نُمُوِّهِ .



نَظٌّ بِالحَبْلِ

عِنْدَمَا تَنظُّ بِالحَبْلِ تُسْرِعُ دَقَّاتُ
قَلْبِكَ . الأَطِبَّاءُ يَسْتَخدِمُونَ الأَرْقَامَ
فِي قِيَاسِ عَدَدِ دَقَّاتِ قَلْبِكَ،
وَيَسْتَخدِمُونَهَا أَيضًا فِي حَالَاتٍ
عَدِيدَةٍ أُخْرَى .

إِثْنَانِ بِإِثْنَيْنِ

أَجْهَازَةُ الكُمْبِيوتَرِ تَسْتَخدِمُ الأَرْقَامَ لِأداءِ وِظَائِفِهَا . يَسْتَخدِمُ
الكُمْبِيوتَرُ فِي الأَرْقَامِ نِظامًا مَبْنِيًّا عَلَى أساسِ «ثَنائِيٍّ» لَا
عَشْرِيٍّ .



إِيَّاكَ أَنْ تَضَعَ شَيْئًا فِي فَمِكَ أَوْ
عَيْنِكَ . وَتَذَكَّرْ بَعْدَ كُلِّ تَجْرِبَةٍ أَنْ
تُنظِّفَ مَا تَوَسَّخَ وَأَنْ تُعِيدَ كُلَّ شَيْءٍ
إِلَى مَكَانِهِ .

كُنْ عَالِمًا حَرِيصًا عَلَى السَّلَامَةِ
إِتِّبِعِ التَّعْلِيمَاتِ كُلَّهَا بِانْتِبَاهٍ وَكُنْ
دَائِمًا حَذِرًا، خُصُوصًا فِي تَنَاوُلِكَ
المِقْصَّاتِ والأَدَوَاتِ الحَادَّةِ
الأُخْرَى، والأَجْسَامِ المُرَوَّسَةِ .

⚠ هذه العلامَةُ تَعْنِي
كُنْ حَرِيصًا . عَلَيْكَ أَنْ
تَسْأَلَ رَاشِدًا أَنْ يُعِينَكَ فِي
هَذِهِ الخُطْوَةِ مِنَ التَّجْرِبَةِ .

عَدَاد رَقْمِيّ

ما تحتاج إليه:



وَأَخْرَانِ صَغِيرَانِ



شَرِيْط لاصِق




وَرَق نَسْخ



شَقَّة وَرَق

هَلْ تَعْلَمُ كَيْفَ تُرِي السَّاعَاتُ
الرَّقْمِيَّةُ وَالْحَاسِبَاتُ الْإِلِكْتْرُونِيَّةُ
أَرْقَامَهَا؟ إِعْرِفْ ذَلِكَ بِجَعْلِ
أَرْقَامٍ تَظْهَرُ عَلَى عَرْضِ رَقْمِيّ
تَعِدُّهُ بِنَفْسِكَ.

١ اِنْسَخْ هَذَا الشَّكْلَ عَلَى وَرَقَةٍ نَسْخٍ صَغِيرَةٍ.
لَوْنِ كُلِّ شَيْءٍ بِالْقَلَمِ الْأَسْوَدِ حَتَّى حَوَافِّ
الإِطَارِ، مَا عَدَا الْقِطَاعَاتِ السَّبْعَةَ.



عَلِّمْ حَوْلَ حَوَافِّ
المُسْتَطِيلِ الْأَسْوَدِ.
هذا هو إِطَارُ أَرْقَامِكَ.

٢ اِنْسَخْ الشَّكْلَ عَلَى شَقَّةِ
الوَرَقِ عَشْرَ مَرَّاتٍ. قُصَّهَا إِلَى
شَقَّتَيْنِ. لَوْنِ الْقِطَاعَاتِ الَّتِي
تُشَكِّلُ الأَرْقَامَ ٩ إِلَى ٥ عَلَى شَقَّةِ،
وَالأَرْقَامَ ٤ إِلَى ٠ عَلَى الأُخْرَى.




لَوْنِ الأَرْقَامِ
بِاللَّوْنِ الْأَحْمَرِ.

59186


لَوْنِ سَائِرِ الوَرَقَةِ
بِاللَّوْنِ الْأَسْوَدِ.

٣ ⚠ اِسْتِخْدِمِ وَرَقَةَ نَسْخٍ لِتَعْلَمَ مَوْضِعَ
نَافِذَةِ بَقِيَّاسِ الإِطَارِ نَفْسِهِ عَلَى الأُنْبُوبِ
الكَرْتُونِيِّ الكَبِيرِ. فَصِّلْهَا.



لِتَكُنِ النَافِذَةُ
عَلَى مَسَافَةٍ
٢ سَمَ مِنَ
الطَّرَفِ العُلْوِيِّ
لِلأُنْبُوبِ.

الأرقام كلها من ٠ إلى ٩ يُمكن
إعدادها من الإطار نفسه. بإمكانك
كتابة أي عدد يخطر ببالك، باستخدام
هذه الأرقام العشرة لا غير.



٦ ضع أنبوباً صغيراً
داخل الأنبوب الكبير. أدر الأنبوب
الصغير لترى الأرقام تظهر، واحداً
واحداً. جرّب الأنبوب الصغير الآخر!

٤ ألصق الإطار داخل
الأنبوب الكرتوني الكبير،
بحيث يظهر عبر النافذة.



٥ ألصق شقّة
مُرَقَمَة حَوْلَ الطَّرَفِ
العلويّ من كلٍّ من
الأنبوبين الكرتونيين
الصغيرين.

ساعة رقمية

تستخدم الساعة الرقمية نوع الإطار عينه المستخدم في عرض أرقامك. كل إطار مصنوع من عدد من القطاعات يصل إلى سبعة. القطاعات التي يحتاج إليها للحصول على عدد تعتمد بتيار كهربائي.



مِغْدَاد

ما تحتاج إليه:



عُلبَةُ كَرْتُون



خَيْطُ مِصْيِصٍ

(دوبارة)



شَرِيْطُ لاصِقٍ



مِقْصَصٌ




تِسْعُ خَرَزَاتٍ بِكُلِّ مَنَ أَلْوَانٍ ثَلَاثَةٌ

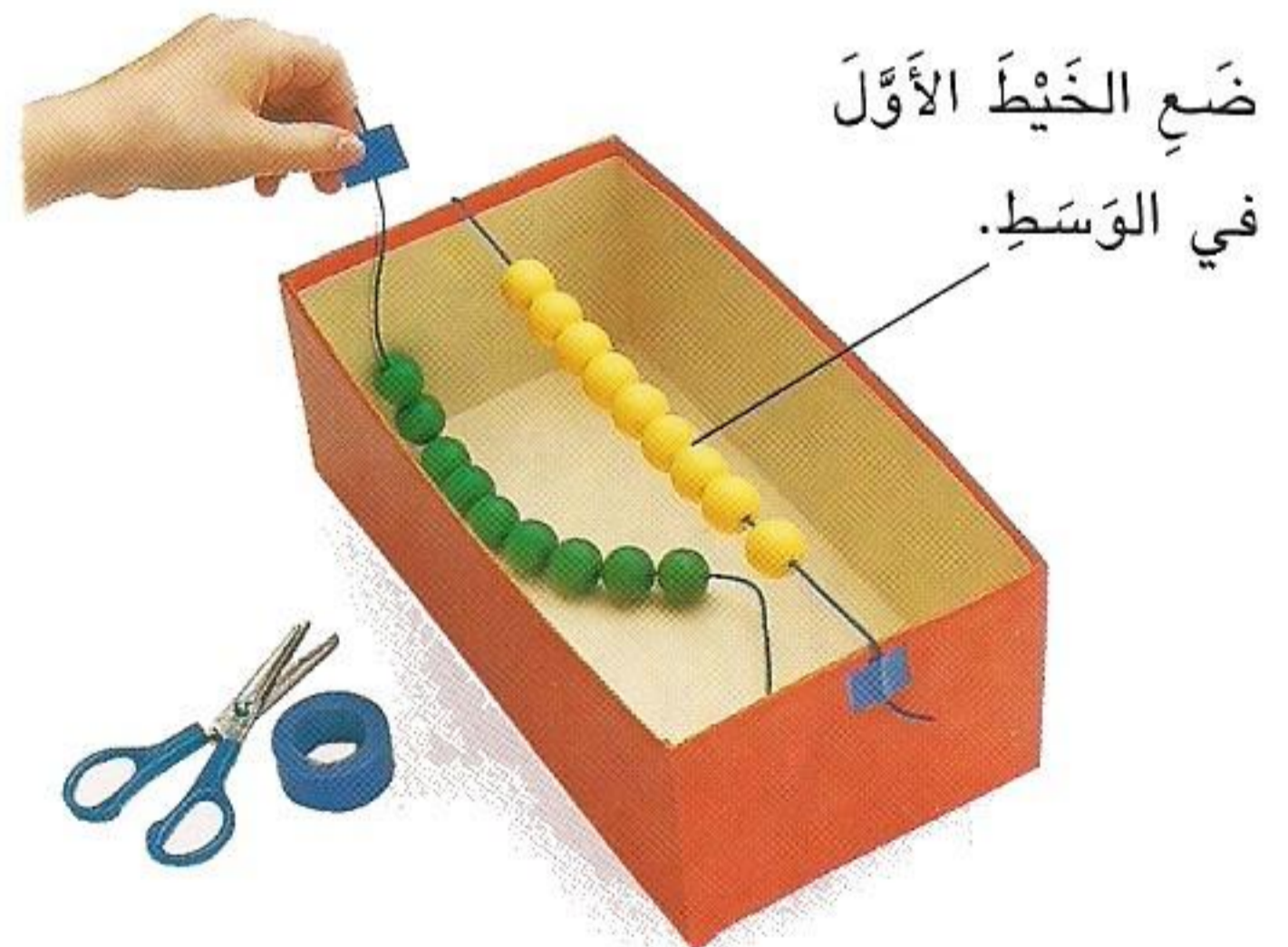
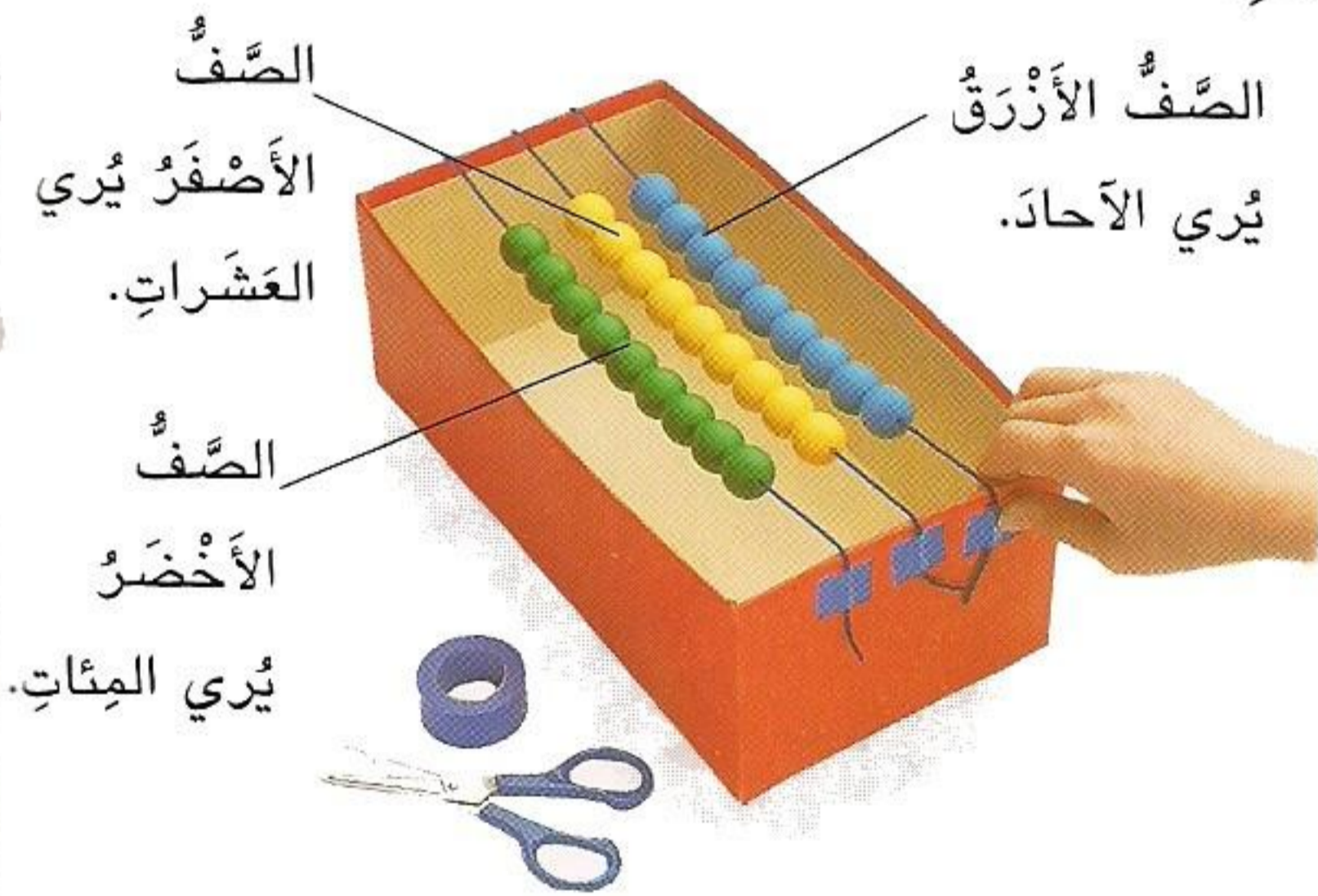
إِصْنَعْ مَكِينَةً جَمْعَ تُدْعَى «المِغْدَاد». هذه المَكِينَةُ تَسْتُخْدِمُ حَبَّاتِ خَرَزٍ لِتُرِيَّ المِئَاتِ والعِشْرَاتِ وَالْأَحَادَ. بِإِمْكَانِكَ أَنْ تَجْمَعُ أَوْ تَطْرَحَ الأَعْدَادَ مِنْ ٠ إِلَى ٩٩٩.



١ قُصَّ ثَلَاثَ قِطْعٍ مِّنْ خَيْطٍ المِصْيِصِ، كُلُّ مَنَهَا أَطْوَلُ مَنَ العُلبَةِ بِقَلِيلٍ.




٢ شُكِّ تِسْعَ خَرَزَاتٍ مِّنَ اللُّونِ نَفْسِهِ فِي كُلِّ مَنَ الخِيوطِ الثَّلَاثَةِ.



٤ أَلْصِقْ خَيْطَ الخَرَزِ الثَّلَاثِ. هذا هو مِغْدَادُكَ. أَرِحِ الخَرَزَاتِ كُلَّهَا إِلَى أَحَدِ جانِبِي العُلبَةِ.

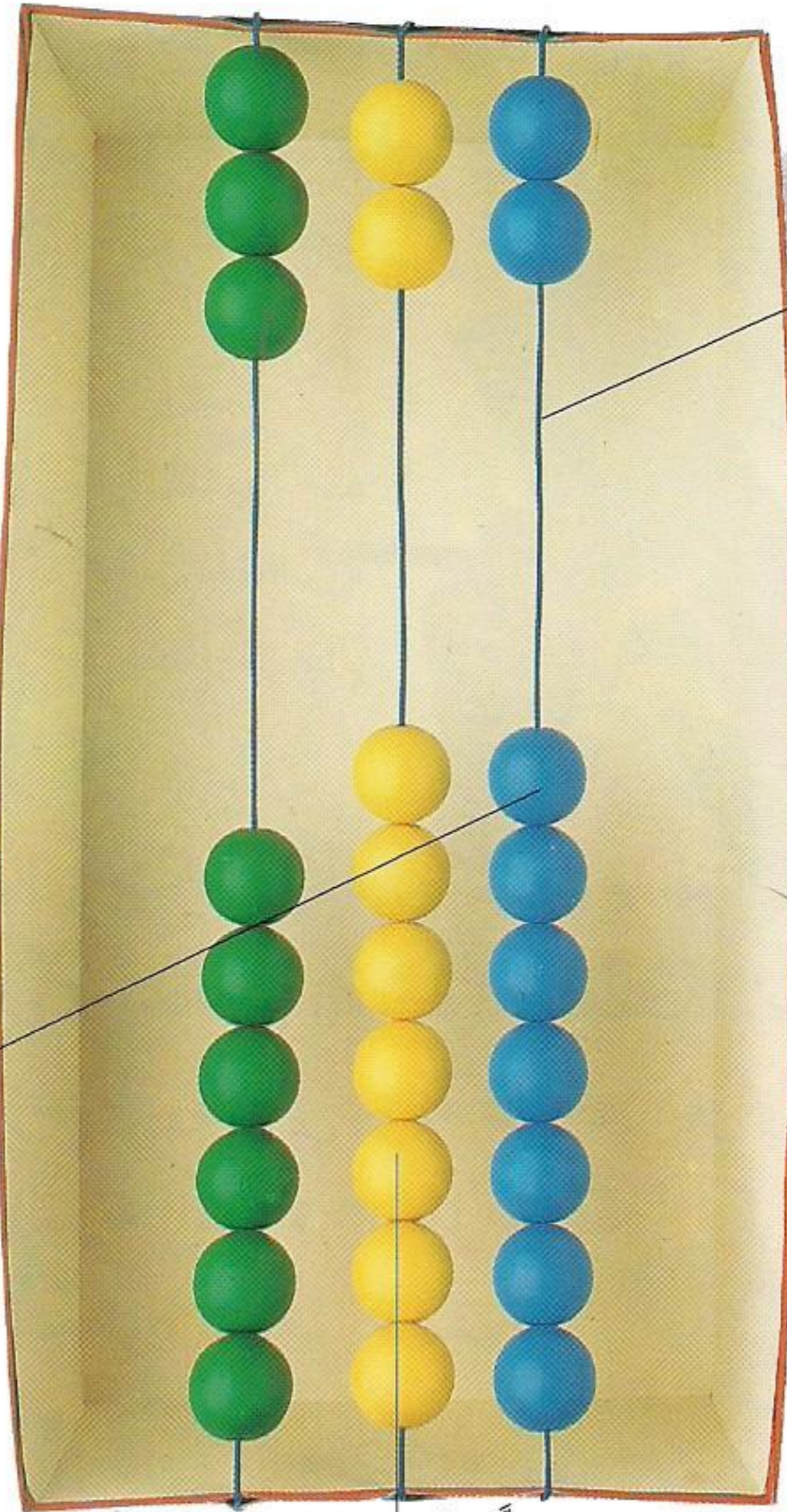
٣ مَدِّ فَوْقَ العُلبَةِ خَيْطًا مِّنَ الخَرَزِ. أَلْصِقْ نَهَايَتَهُ إِلَى طَرَفِهَا. افْعَلِ الشَّيْءَ نَفْسَهُ بِالخَيْطِ الثَّانِي.

آحاد عَشْرَاتِ مِئَاتِ



٥ جَرِّبْ، أَوَّلًا، أَنْ تَعُدَّ بِمِعْدَادِكَ. أَنْقُلْ، إِلَى أَعْلَى، خَرَزَةَ آحَادٍ لِكُلِّ عَدَدٍ مِنْ وَاحِدٍ إِلَى تِسْعَةٍ. عِنْدَمَا تَصِلُ إِلَى عَشْرَةٍ، أَنْزِلِ الْخَرَزَاتِ الزَّرْقَاءَ كُلَّهَا وَارْفَعْ خَرَزَةَ عَشْرَاتِ صَفْرَاءَ وَاحِدَةً، وَهَكَذَا.

آحاد عَشْرَاتِ مِئَاتِ




الآن يُرَى الْمِعْدَادُ ثَلَاثَ مِئَاتٍ، اثْنَتَيْنِ مِنْ الْعَشْرَاتِ، وَاثْنَيْنِ مِنَ الْآحَادِ، أَوْ ٣٢٢.

هذا الْمِعْدَادُ يُرَى ٤٥ - لَا مِئَاتٍ، أَرْبَعَ عَشْرَاتٍ، وَخَمْسَةَ آحَادٍ.

٦ جَرِّبِ الْآنَ مَسْأَلَةَ حِسَابِيَّةٍ. اِجْمَعْ ٢٧٧ إِلَى ٤٥. لِتَجِدَ الْجَوَابَ تَحْتَاجُ إِلَى أَنْ تُضِيفَ سَبْعَةَ آحَادٍ، سَبْعَ عَشْرَاتٍ، وَاثْنَيْنِ مِنَ الْمِئَاتِ. جَرِّبْ بِضَعِ عَمَلِيَّاتِ حِسَابِيَّةٍ أُخْرَى، ثُمَّ اسْتَخْدِمِ مِعْدَادَكَ فِي الطَّرْحِ.

أَضِفْ سَبْعَةَ آحَادٍ. اِرْفَعْ أَرْبَعَ خَرَزَاتِ آحَادٍ زَرْقَاءَ (وهي الْخَرَزَاتُ الْمُتَبَقِّيَّةُ). لَا يَزَالُ عَلَيْكَ أَنْ تُضِيفَ ثَلَاثَةَ آحَادٍ. أَنْزِلِ الْخَرَزَاتِ الزَّرْقَاءَ كُلَّهَا، وَارْفَعْ خَرَزَةَ صَفْرَاءَ وَاحِدَةً. ثُمَّ اِرْفَعْ خَرَزَتَيْنِ زَرْقَاوَيْنِ أُخْرَيَيْنِ.

أَضِفْ سَبْعَ عَشْرَاتٍ بِالطَّرِيقَةِ نَفْسِهَا. ثُمَّ أَضِفِ اثْنَتَيْنِ مِنَ الْمِئَاتِ.



مَكْنَةُ جَمْعِ قَدِيمَةٍ

أُخْتَرِعَ الْمِعْدَادُ مُنْذُ نَحْوِ ثَلَاثَةِ آلَافِ سَنَةٍ، لَكِنَّهُ لَا يَزَالُ الْيَوْمَ يُسْتَعْمَدُ، وَبِخَاصَّةٍ فِي بَعْضِ أَجْزَاءِ قَارَةِ آسِيَا. بِإِمْكَانِ الْمُتَمَرِّسِينَ بِاسْتِخْدَامِ الْمِعْدَادِ أَنْ يَقُومُوا بِعَمَلِيَّاتِ الْجَمْعِ وَالطَّرْحِ بِسُرْعَةٍ.

حاسبة مزلاقيّة

ما تحتاج إليه:



مُثلَّث

قَلَمُ تَعْلِيم



مِقْصَص




قِطْعَةُ عَرِيضَةٍ مِنَ الْوَرَقِ
الْمُقَوَّى وَأُخْرَى ضَيْقَةً




مِسْطَرَةٌ


رَكِّزِ الْمُثَلَّثَ عَلَى
الْمِسْطَرَّةِ لِتَضْمَنَ أَنْ
تَكُونَ الْخُطُوطُ كُلُّهَا
مُسْتَقِيمَةً.



إَجْعَلِ الْجُزْءَ الْكَبِيرَ فِي
عَرْضِ الْوَرَقَةِ الْمُقَوَّاةِ
الضَيْقَةِ.




٢ اسْتَخْدِمِ الْمِسْطَرَّةَ وَالْمُثَلَّثَ لِتَرْسُمَ
إِحْدَى وَعِشْرِينَ خَانَةً عَبْرَ كِلَا جُزْأَيْ
الْوَرَقَةِ الْمُقَوَّاةِ. إَجْعَلْ تَبَاعُدَ
الْخُطُوطِ بِعَرْضِ اسْمِ.




٤ ضَعِ الْقِطْعَةَ
الضَيْقَةَ مِنَ الْوَرَقِ
الْمُقَوَّى دَاخِلَ الْوَرَقَةِ
الْمُقَوَّاةِ الْمَطْوِيَّةِ. أَرْسُمْ عَلَيْهَا
إِحْدَى عَشْرَةَ خَانَةً كَمَا هُوَ مُبَيَّنٌّ.

١ إِطْوِ الْقِطْعَةَ الْعَرِيضَةَ مِنَ
الْوَرَقِ الْمُقَوَّى، بِحَيْثُ يَكُونُ
أَحَدُ الْجُزْأَيْنِ أَكْبَرَ مِنَ الْآخَرِ.



٣ رَقِّمِ الْخَانَاتِ فِي
كِلا وَجْهَيْ الْوَرَقَةِ
الْمُقَوَّاةِ مِنْ ٠ إِلَى ٢٠.

٥ رَقْمِ الخاناتِ من ١٠ إلى ١ واكْتُبْ عَلامَةَ «زائِدٍ» أمامَ كُلِّ رَقْمٍ. فَصِّلْ نَافِذَةً في الخانَةِ الأَخِيرَةِ، واكْتُبْ بِمُحَاذَاتِهَا عَلامَةَ «يُساوي».




هنا، المِسْطَرَّةُ المِزْلاقِيَّةُ تُري حَاصِلَ $10 + 8 = 18$. حَاصِلُ الجَمْعِ هنا في كُلِّ المُعادَلاتِ ١٨.

هذه المِسْطَرَّةُ المِزْلاقِيَّةُ تَعْمَلُ لأنَّ الخاناتِ المُرَقَّمَةَ كُلَّها بِالْحَجْمِ نَفْسِهِ.

٦ أَعِدِ القِطْعَةَ الضَّيِّقَةَ مِنَ الوَرَقِ المُقَوَّى إلى داخِلِ الوَرَقَةِ المُقَوَّاةِ المَطْوِيَّةِ. أزلِقْها نُزولًا وصُعودًا لِتَقومَ بِعَمَلِيَّةِ جَمْعٍ. حَاصِلُ الجَمْعِ تَراهُ عَبرَ النَافِذَةِ.

حَلالُ العَمَلِيَّاتِ الحِسابِيَّةِ


المِساطِرُ المِزْلاقِيَّةُ في مُعْظَمِها يُمكنُ اسْتِخدامُها في عَمَلِيَّاتِ الضَّرْبِ والقِسْمَةِ إِضافةً إلى الجَمْعِ والطَّرْحِ. كانَ النَّاسُ، قَبْلَ تَطوِيرِ الحاسِباتِ الإِلِكْترُونِيَّةِ، يَسْتِخدمونَ المِساطِرَ المِزْلاقِيَّةَ في حَلِّ عَمَلِيَّاتِهِم الحِسابِيَّةِ المُعَقَّدَةِ.



مِقْدَافُ كُلَّلِ (بِلِي)

إِصْنَعْ لُعْبَةً تَعُدُّ الْأَهْدَافَ
الَّتِي تُسَجِّلُهَا. تُرِيكَ كُلَّلُ
القَنَوَاتِ الْأَهْدَافِ الْمُسَجَّلَةِ
عَلَى شَكْلِ «خَطِّ بِيَانِيٍّ».
الخُطُوطُ الْبِيَانِيَّةُ تُرِي
حَقَائِقَ الْأَرْقَامِ فِي رَسْمٍ.

ما تحتاج إليه:



رُفْعَتَانِ مِنَ الْوَرَقِ
الْمُقَوَّى الْخَفِيفِ



مِقْصَصٌ



شَقَّةٌ مِنَ وَرَقٍ مُقَوَّى خَفِيفِ



أَنْبُوبَ كَرْتُونِيٍّ




شَرِيْطَ لاصِقِ



كُلَّلِ (بِلِي)

قَلَمٌ تَعْلِيمِ

١ اِطْوِ إِحْدَى رُفْعَتَيْ الْوَرَقِ الْمُقَوَّى طَيِّبَاتٍ
تَمَوْجِيَّةً. اِعْمَلْ إِحْدَى عَشْرَةَ طِيَّةً مُتَسَاوِيَةً الْمَسَافَاتِ.
ثُمَّ اِطْوِ شَقَّةَ الْوَرَقَةِ الْمُقَوَّاةِ طَوِيلًا إِلَى نِصْفَيْنِ.



هذه هي
قنواتك.

٢ اَلصِّقْ رُفْعَةَ الْوَرَقِ الْمُقَوَّى
الثَّانِيَةَ فَوْقَ أَحَدِ طَرَفَيْ
القَنَوَاتِ. اَلصِّقِ الشَّقَّةَ الْمَطْوِيَّةَ
إِلَى الطَّرَفِ الْآخَرِ.

الشَّقَّةُ الْمَطْوِيَّةُ تَعْمَلُ
عَمَلَ جِدَارٍ عِنْدَ نِهَائِيَةِ
القَنَوَاتِ.



٣ اَلصِّقِ الْأَنْبُوبَ قَرِيبًا مِنَ الطَّرَفِ الْعُلْوِيِّ
لرُفْعَةِ الْوَرَقِ الْمُقَوَّى الْمُنْبَسِطَةِ، فِي نَقْطَةِ مُتَوَسِّطَةِ
بَيْنَ الْجَانِبَيْنِ. هَذَا هُوَ مِقْدَافُكَ.

٤ رَقْمَ طَرَفِ الْوَرَقَةِ الْمُقَوَّاةِ الْمُنْبَسِطَةِ فَوْقَ الْقَنَاوَاتِ . ثُمَّ ضَعُ خَمْسَ كُؤُلٍ فِي قَنَاةٍ مُتَطَرِّفَةٍ . اُكْتُبِ الْأَرْقَامَ ١ إِلَى ٥ صُعودًا فِي جَانِبِ الْقَنَاةِ ، عَلَى مُسْتَوَى أَعْلَى كُلِّ كُؤُلَةٍ .

رَقْمِ الْقَنَاةِ الْمُتَوَسِّطَةِ ١ ، الْإِثْنَتَيْنِ التَّالِيَتَيْنِ ، وَاجِدَةً مِنْ كُلِّ جَانِبٍ ، ٢ ، وَالْقَنَاَتَيْنِ الْمُتَطَرِّفَتَيْنِ ٣ .

كُلُّ كُؤُلَةٍ فِي الْقَنَاةِ الْمُتَوَسِّطَةِ تُسَاوِي ١ ، وَكُلُّ كُؤُلَةٍ إِلَى يَمِينِ الْقَنَاةِ الْمُتَوَسِّطَةِ وَيَسَارِهَا تُسَاوِي ٢ ، وَكُلُّ كُؤُلَةٍ فِي الْقَنَاَتَيْنِ الْمُتَطَرِّفَتَيْنِ تُسَاوِي ٣ . اللَّاعِبُ الَّذِي يَحْصُلُ عَلَى أَعْلَى مَجْمُوعٍ يَرْبِخُ .

٥ رَكِّزِ الْمِقْدَافَ عَلَى كَدْسَةٍ مِنْ الْكُؤُلِ . الْآنَ بِإِمْكَانِكَ أَنْ تَلْعَبَ اللَّعْبَةَ . دَخْرِجْ عَشْرَ كُؤُلٍ نَزُولًا فِي الْمِقْدَافِ وانظُرِ الْمَجْمُوعَ الَّذِي حَصَلَتْ عَلَيْهِ . هَلْ يَسْتَطِيعُ صَدِيقُكَ أَنْ يَحْصُلَ عَلَى مَجْمُوعٍ أَعْلَى؟

تُشَكِّلُ الْكُؤُلُ فِي الْقَنَاوَاتِ خَطًّا بَيَانِيًّا . بِقِرَاءَةِ الْمِقْيَاسِ إِلَى الْجَانِبِ ، بِإِمْكَانِكَ أَنْ تَعْرِفَ عَدَدَ الْكُؤُلِ فِي كُلِّ قَنَاةٍ ، دُونَ عَدِّ .

حَقَائِقُ فِي أَرْقَامِ

فِي الْخُطُوطِ الْبَيَانِيَّةِ طَرِيقَةٌ جَيِّدَةٌ لِرُؤْيَا الْكَثِيرِ مِنَ الْأَرْقَامِ فِي الْوَقْتِ نَفْسِهِ وَفَهْمِهَا . تَخْتَرِنُ أَجْهَزَةُ الْكُومْپِيُوتَرِ الْأَرْقَامَ فِي ذَاكِرَتِهَا لِعَمَلِ خُطُوطِ بَيَانِيَّةِ كَهَذَا الَّذِي تَرَاهُ فِي الصُّورَةِ .



نُدْفَةٌ ثَلْجٍ

ما تحتاج إليه:



فِرْجَار (بِرْجَل)




مِقْصَص



وَرَقَةٌ


للعديد من الأشياء في الطبيعة «خَطُّ تَنَاظِرٍ». إذا طَوَيْتَ الشَّيْءَ على طولِ هذا الخَطِّ، يَأْتِي كُلُّ مِنَ النِّصْفَيْنِ مُنَاطِرًا أو مُمَاطِلًا للنِّصْفِ الأخرِ تمامًا. اصْنَعْ نُدْفَ ثَلْجٍ (كِسْفَ ثَلْجٍ) - ستكونُ كُلُّ نُدْفَةٍ منها مُتَنَاظِرَةً في حَدِّ ذاتِها، لكنَّ كُلُّ وَاحِدَةٍ منها ستكونُ مُخْتَلِفَةً عن الأخرى.



٢ فَصِّلِ الدَّائِرَةَ بِمِقْصَصٍ.



١ أُرْسِمُ بِفِرْجَارٍ على وَرَقَةٍ دائِرَةً كَبِيرَةً.




٤ اِعْمَلْ طَيِّبَيْنِ أُخْرَيْنِ في الدَّائِرَةِ المَطْوِيَّةِ، بحيثُ يكونُ لها ثَلَاثَةُ أَقْسَامٍ مُتَسَاوِيَةٍ.



٣ اِطْوِ الدَّائِرَةَ نِصْفَيْنِ. لا تَضْغَطْ على مَوْضِعِ الطِّيِّ كَثِيرًا.

أُتْرِكَ مَجَالًا بَيْنَ
فُرْضَةٍ وَأُخْرَى.



لِنُدْفَةٍ ثَلْجِكَ ثَلَاثَةَ خُطُوطٍ
تَنَاظِرُ. هَذَا يَعْنِي أَنَّ الْأَنْسَاقَ
سَتَتَمَاثَلُ تَمَامًا إِذَا طَوَيْتَهَا
عَلَى طَوْلِ أَيِّ خَطٍّ مِنْ
الْخُطُوطِ الثَّلَاثَةِ. إِطْوِهَا ثَانِيَةً
لِتَرَى تَنَاظَرَهَا.


الْفُرْضَةُ الَّتِي قَصَصْتَهَا
فِي أَعْلَى الدَّائِرَةِ تَتَكَرَّرُ
سِتِّ مَرَّاتٍ.

٥ قُصِّ فُرْضَةً عَمِيقَةً فِي الْحَافَةِ
الْمُسْتَدِيرَةِ مِنَ الدَّائِرَةِ الْمَطْوِيَّةِ.
ثُمَّ قُصِّ بِضَعِ فُرْضٍ أَصْغَرَ فِي
حَوَافِّ الدَّائِرَةِ.



كُلُّ فُرْضَةٍ تَقْصُّهَا فِي
الْحَوَافِّ تَعْمَلُ نَسْقًا يَتَكَرَّرُ
ثَلَاثَ مَرَّاتٍ.

٦ اِفْتَحِ الْوَرَقَةَ بِأَنَاةٍ
وَابْسُطْهَا. هَذِهِ هِيَ
نُدْفَةُ ثَلْجِكَ.



أَرْقَامٌ طَبِيعِيَّةٌ

هَذِهِ نُدْفُ ثَلْجٍ حَقِيقِيَّةٌ، مُكَبَّرَةٌ. كُلُّ وَاحِدَةٍ مِنْهَا مُتَنَاظِرَةٌ فِي
حَدِّ ذَاتِهَا. وَمَعَ أَنَّهُ لَمْ يُعَثَّرْ عَلَى نُدْفٍ مُتَشَابِهَةٍ أَبَدًا، فَلِكُلِّ
وَاحِدَةٍ مِنْ نُدْفِ الثَّلْجِ خُطُوطٌ تَنَاظِرُ.

موسيقى أرقام

هل تعرف كيف تعزف بالأرقام؟
إصنع جيتارًا من علبة مناديل ورقية فارغة، ثم استخدم أرقامًا لتكتب ألحانك بحيث تستطيع أن تعزفها وقت تشاء.

ما تحتاج إليه:



علبة مناديل ورقية



قلمتا تعليم



غراء



شقة ورق



مقص



ثلاثة أقلام رصاص



رباط مطاطي




شريط لاصق

رقم الطيات من اليمين
إلى اليسار.




٢ افتح الورقة. علم الطيات التي عملتها ورقمها.




١ قص الورقة بطول العلبة نفسه. اطوها إلى أثلاث. افتح الطيات، واطوها الآن إلى نصفين. ثم اطوها إلى أرباع.

هذه هي «علبة صوت» التي الموسيقيّة، التي تجعل موسيقاك أعلى صوتًا.




٤ ألصق إلى كل طرف من طرفي العلبة قلم رصاص.




٣ غر شقة الورق على طول حافة العلبة.

٥ مَطَّ الرِّبَاطِ المَطَّاطِيَّ حَوْلَ العُلبَةِ وفَوْقَ القَلَمِينَ . يَنْبَغِي أَنْ يَكُونَ الرِّبَاطُ مَشْدُودًا .




قَلَمًا الرِّصَاصِ يَرْفَعَانِ الرِّبَاطَ المَطَّاطِيَّ عَنِ العُلبَةِ، بِحَيْثُ يُمَكِّنُكَ نَقْرُهُ.

عندما تَعْرِفُ لَحْنًا تَرَعِبُ فِي سَمَاعِهِ مُجَدِّدًا، دُونَ الأَرْقَامِ الَّتِي يَتَأَلَّفُ مِنْهَا.



٦ جيتارك جاهز للعرّف .
إكبس قلم الرصاص الثالث
على الرباط المطاطي المقابل
لأرقام شقة الورق، وانقر
الرباط المطاطي بإصبعك .



نَعَمَاتِ مَرْقَمَةٍ

بإمكان برنامج الكمبيوتر هذا أن يُسجّل الموسيقى في أثناء عزفها .
كُلُّ نَعْمَةٍ عَلَى لَوْحَةِ المَفَاتِيحِ تُعْطَى رَقْمَهَا الخاصَّ . عِنْدَمَا يَعْرِفُ
شَخْصٌ اللّحْنَ، يُخزَنُ فِي ذَاكِرَةِ الكُمْبِيُوتَرِ كَتَابِعِ أَرْقَامٍ .

مَكْنَةُ وَزْنٍ

نَسْتَحْدِمُ الْأَرْقَامَ لِتُنْبِنَا بِدِقَّةِ الْأَوْزَانِ
الصَّحِيحَةِ لِلأَشْيَاءِ. إِصْنَعْ «مِيزَانًا نَابِضِيًّا»
يَعْمَلُ بِمَطِّ رِبَاطٍ مَطَّاطِيٍّ. بِإِمْكَانِكَ
اسْتِخْدَامُهُ مَعَ وَزْنَاتٍ مِنَ الْكُلَّلِ (الْبِلْيِ)
بَدَلِ الْكِيلُوغْرَامَاتِ أَوْ الْأَرْطَالِ.

ما تحتاج إليه:



كوب رغائوي
(فوم)

كُلَّل (بِلْيِ)

شَرِيْطَ لاصِق

وَرَقَة



عودُ طَعَام



قَلَمُ رِصَاص

رِبَاطٌ مَطَّاطِيٌّ



مِقْصَص




خَيْطٌ مِصْيَص

مَعْجُونُ تَشْكِيل

مِشْبَكُ وَرَق

(دوبارة)



١ قُصَّ قِطْعَةً قَصِيرَةً مِنَ

الْخَيْطِ وَالصِّقْهَا إِلَى كِلَا

جَانِبَيْ الْكُوبِ لِعَمَلِ مَسَكَّةٍ.

٢ قُصَّ الرِّبَاطَ الْمَطَّاطِيَّ،

وَارْبُطْ أَحَدَ طَرَفَيْهِ إِلَى مِشْبَكِ

الْوَرَقِ. أَلصِقْ مِشْبَكَ الْوَرَقِ إِلَى

سَطْحِ طَاوِلَةٍ.


٣ اُرْبُطِ الطَّرْفَ الْآخَرَ مِنَ

الرِّبَاطِ الْمَطَّاطِيَّ إِلَى وَسْطِ


مَسَكَّةِ الْكُوبِ.

عَلِّمِ نَقْطَةَ بَدءِ الكُوبِ
الفَارِغِ عَلَى المِقْيَاسِ.

تَأَكَّدْ أَنَّ الكُلَّ كُلِّهَا
بِحَجْمِ وَاحِدٍ.




أَضِفِ الكُلَّ اثْنَتَيْنِ
اثْنَتَيْنِ، مُعَلِّمًا المِقْيَاسَ
فِي كُلِّ مَرَّةٍ وَمُرَقِّمًا إِيَّاهُ.



٥ ضَعِ كُلتَيْنِ فِي الكُوبِ وَعَلِّمِ المِقْيَاسَ.
عِنْدَمَا تَكُونُ قَدِ اسْتَنْفَدْتَ الكُلَّ، أَفْرِغِ
الكُوبَ. اسْتَخْدِمِ مِيزَانَكَ لِوَزْنِ أَشْيَاءٍ
صَغِيرَةٍ.


⚠️ ٤ أَلصِقِ الوَرَقَةَ إِلَى حَافَةِ
الطَّاوِلَةِ لِعَمَلِ مِقْيَاسٍ. إِغْرِزْ عَوْدَ
الطَّعَامِ فِي الكُوبِ لِعَمَلِ إِبْرَةِ
المُؤَشِّرِ.



مِيزَانُ دَقِيقٍ

هَذَا المِيزَانُ النَّابِضِيُّ يَزِنُ الأَشْيَاءَ بِدِقَّةٍ. كُلَّمَا جَذَبْتَ
النَّابِضَ أَكْثَرَ ازْدَادَ مَطَّةً. المَسَافَةُ الَّتِي يَبْلُغُهَا مَطُّ النَّابِضِ
تُرِيكَ وَزْنَ الشَّيْءِ. عِنْدَمَا يُرْفَعُ الشَّيْءُ مِنْ كِفَّةِ المِيزَانِ،
يَعُودُ النَّابِضُ إِلَى طَوْلِهِ الطَّبِيعِيِّ.

عَجَلَاتُ الْعَدِّ



ثَلَاثَةُ أَلْوَانٍ مِنْ وَرَقٍ
مُقَوَّى مُمَوَّجٍ
قَلَمُ رِصَاصٍ



مِقْصَصٌ



غِرَاءٌ



لَا قِطَا وَرَقٍ

مَا تَحْتَاجُ إِلَيْهِ:




وَرَقٌ نَسْخٌ



قَلَمُ تَعْلِيمٍ


كَيْفَ يَعْمَلُ الْعَدَّادُ؟ اصْنَعْ لَكَ
وَاحِدًا لِتَعْرِفَ كَيْفَ السَّرِّ فِي
عَجَلَاتِهِ الْمُحَرَّزَةِ - الْعَجَلَةُ تُدِيرُ
عَجَلَةً أُخْرَى بَعْدَ أَنْ تَقُومَ بِدَوْرَةٍ
كَامِلَةٍ.

١ انْسُخِ مَخَطَّطَ الشَّكْلَيْنِ أَذْنَاهُ. اِقْلِبْ
وَرَقَةَ النَّسْخِ وَافْرُكْ كُلَّ مَخَطَّطٍ عَلَى وَرَقَةٍ
مُقَوَّاةٍ مُلَوَّنةٍ.




٢ ⚠️ فَصِّلِ الشَّكْلَيْنِ. اسْتَخْدِمِ
قَلَمَ الرِّصَاصِ لِتَثْقُبَ الْمَرْكَزَيْنِ.

هَذِهِ هِيَ عَجَلَةُ
«الْأَحَابِ».

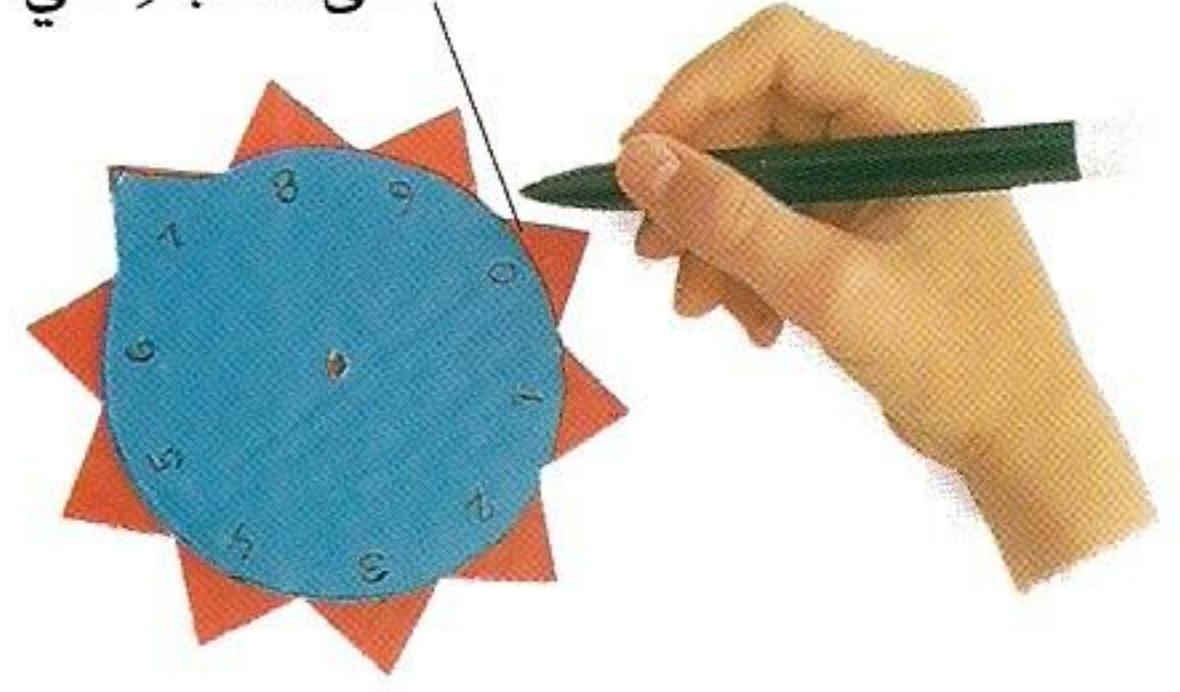



عَلِّمِ التَّثْقِبَ الْمَرْكَزِيَّ
لِكُلِّ مِنَ الشَّكْلَيْنِ.

هَذِهِ هِيَ عَجَلَةُ
«الْعَشْرَاتِ».




أَكْتُبِ الأَرْقَامَ الأُخْرَى مِنْ ٠ إلى ٩
على العَجَلَةِ في اتِّجَاهِ عَقَارِبِ السَّاعَةِ.





٤ رَقِّمِ عَجَلَةَ العَشْرَاتِ في عَكْسِ
اتِّجَاهِ عَقَارِبِ السَّاعَةِ مِنْ ٠ إلى ٩.

٣ ضَعِ عَجَلَةَ الأَحَادِ فَوْقَ عَجَلَةِ
العَشْرَاتِ بَحَيْثُ يَتطَابَقُ الرَّأْسَانِ.
أَكْتُبِ رَقْمَ ٧ على عَجَلَةِ الأَحَادِ،
تَحْتَ رَأْسِهَا.




يَنْبَغِي أَنْ تَمْتَدَّ العَجَلَتَانِ قَلِيلًا
وَرَاءَ حَافَّتِي الورَقَةِ المَقْوَاةِ.




٦ ⚠ إغْرِزْ قَلَمَ رِصَاصِ في الثَّقْبِ وَسَطَ كُلِّ
مِنَ العَجَلَتَيْنِ لِعَمَلِ ثَقْبَيْنِ في الورَقَةِ المَقْوَاةِ. ثُمَّ
انزِعِ العَجَلَتَيْنِ.

٥ رَكِّزِ العَجَلَتَيْنِ الواحِدَةَ إلى جَانِبِ الأُخْرَى
على الورَقَةِ المَقْوَاةِ الثَّالِثَةِ. إِطْوِهَا بَحَيْثُ تُغَطِّي
مُعْظَمَ كُلِّ مِنَ العَجَلَتَيْنِ وَمَسِّدَهَا.



تَأَكَّدُ أَنَّ كِلَا الْعَجَلَتَيْنِ
تُرِي الصَّفْرَ (٠)
فِي أَغْلَاهَا.




٨ فَصِّلْ مُثَلَّثَيْنِ مِنْ قِصَاصَاتِ الْوَرَقِ الْمُقَوَّى
لِعَمَلِ مُؤَشِّرَيْنِ. غَرِّ الْمُؤَشِّرَيْنِ فَوْقَ الثَّقْبَيْنِ. أَعِدْ
الْعَجَلَتَيْنِ إِلَى مَوْضِعِهِمَا. أَدْخِلْ لاقِطِي الْوَرَقِ عَبْرَ
الثُّقُوبِ كُلِّهَا.

٧ ⚠️ إِطْوِ الْوَرَقَةَ الْمُقَوَّاةَ ثَانِيَةً
وَاقْلِبْهَا. ثُمَّ اغْرِزِ الْقَلَمَ عَبْرَ الثَّقْبَيْنِ لِثَقْبِ
الْجَانِبِ الْآخَرَ مِنَ الْوَرَقَةِ الْمُقَوَّاةِ.



عَدَّادُ السَّيَّارَةِ

العَدَّادُ فِي أَوْدُومِتْرِ السَّيَّارَةِ يَعْْمَلُ
بِالطَّرِيقَةِ الَّتِي يَعْْمَلُ بِهَا الْعَدَّادُ
الَّذِي صَنَعَتْ. الْأَرْقَامُ مِنْ ٠ إِلَى
٩ مَطْبُوعَةٌ عَلَى أُسْطُونَاتٍ
صَغِيرَةٍ. هَذِهِ الْأُسْطُونَاتُ تُدَوِّمُ
لِتَعْدَّ الْكِيلُومِتْرَاتِ أَوْ الْأَمْيَالَ
الَّتِي تَقْطَعُهَا السَّيَّارَةُ فِي أَثْنَاءِ
انْتِطَاقِهَا.



كُلَّمَا دَارَتْ عَجَلَةُ الْأَحَادِ عَائِدَةً مِنْ ٩ إِلَى ٠،
دَارَتْ عَجَلَةُ الْعَشْرَاتِ حَوْلَ خَانَةِ وَاجِدَةٍ.

٩ هَذَا هُوَ عَدَّادُكَ. دَوَّرْ عَجَلَةَ الْأَحَادِ فِي عَكْسِ اتِّجَاهِ
عَقَارِبِ السَّاعَةِ لِبَدءِ الْعَدِّ. بِإِمْكَانِكَ أَنْ تَعُدَّ مِنْ ٠ إِلَى
٩٩. هَذَا الْعَدَّادُ يُرِي الْعَدَدَ ١٩.

عُدَّة دَقَاتِ القَلْبِ

ما تحتاج إليه:




حَبْلُ نَظِّ



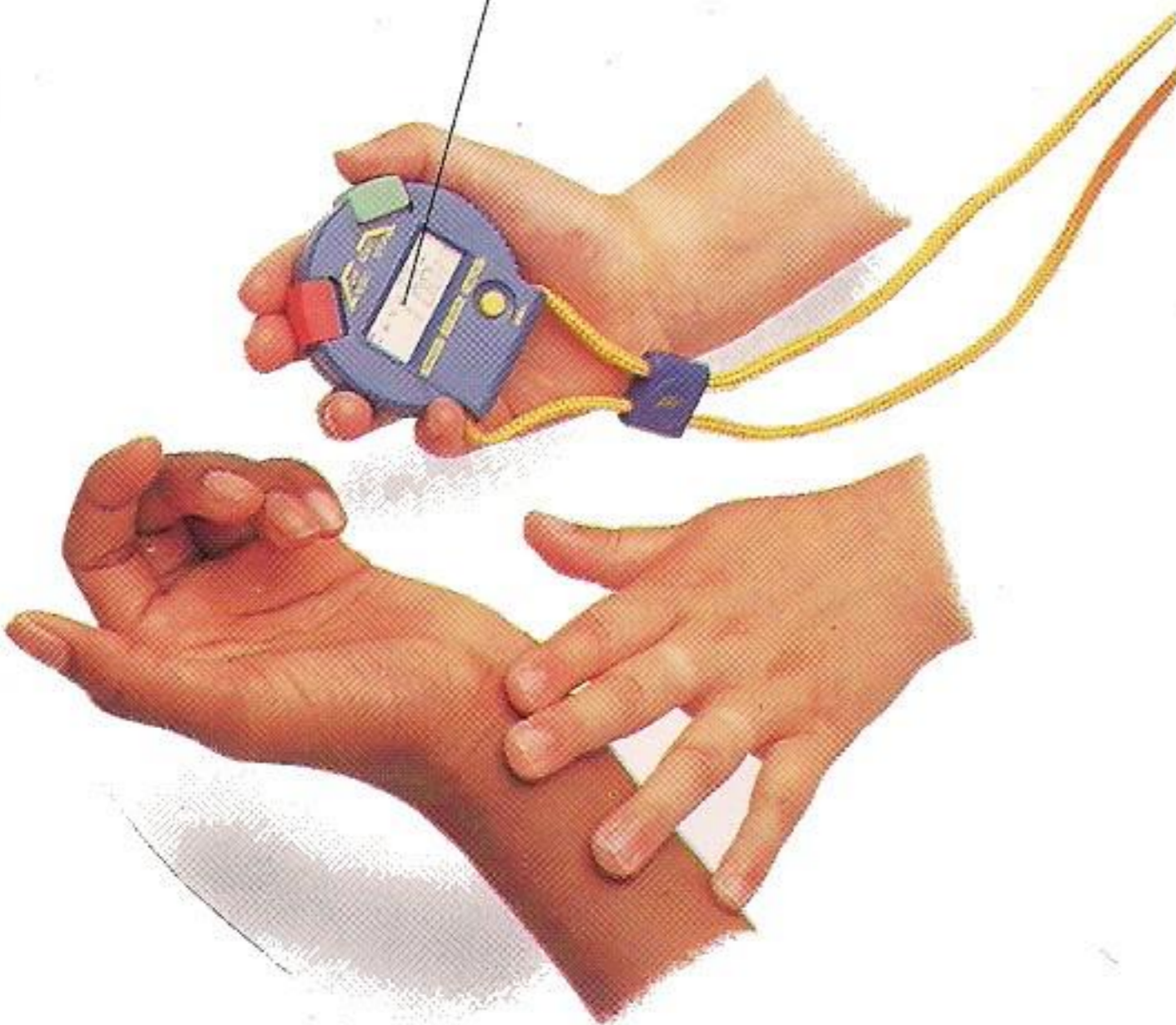
سَاعَةٌ تَوَقِّيتٌ

عُدَّة دَقَاتِ قَلْبِكَ فِي الدَّقِيقَةِ الواحِدَةِ.
إِسْأَلُ صَدِيقًا أَنْ يَتَحَسَّسَ «نَبْضَكَ».
نَبْضُكَ يَخْفِقُ تَمَامًا بِنِسْبَةِ عَدَدِ دَقَاتِ
قَلْبِكَ.

تَشْعُرُ بِنَبْضِكَ فِي
الجَانِبِ البَاطِنِيِّ
مِنَ الرُّشْعِ.



هَذِهِ المَرَّةَ، سَيَعُدُّ
صَدِيقُكَ نَبْضَاتِ أَكْثَرَ.
فدَقَاتُ قَلْبِكَ تَتَسَارَعُ
مَعَ بَدَلِ مَجْهُودٍ.



١ إسْأَلُ صَدِيقًا أَنْ يَتَحَسَّسَ نَبْضَكَ
بِإِصْبَعِي السَّبَابَةِ وَالوَسْطَى. شَعْلُ
سَاعَةِ التَّوَقِّيتِ وَعُدَّة دَقَاتِ قَلْبِكَ فِي
دَّقِيقَةٍ واحِدَةٍ.

٢ الآنَ نَظِّ بِالحَبْلِ لِمُدَّةِ دَّقِيقَةٍ واحِدَةٍ،
بِأَقْصَى مَا تَسْتَطِيعُ مِنْ سُرْعَةٍ.


٣ إسْأَلُ صَدِيقَكَ أَنْ يَأْخُذَ
عَدَدَ نَبْضَاتِكَ ثَانِيَةً، لِمُدَّةِ
دَّقِيقَةٍ أُخْرَى.

صُعود السُّلَم ونُزوله

ما تحتاج إليه :



مُرَبَّعٌ كَبِيرٌ مِنَ
الْوَرَقِ الْمُقَوَّى



مِسْطَرَةٌ



شَقَّةٌ مِنَ الْوَرَقِ الْمُقَوَّى
الْخَفِيفِ، طَوْلُهَا ٤٨ سَم



أَقْلَامٌ تَلْوِينٌ

مُرَبَّعٌ صَغِيرٌ

مِنَ الْوَرَقِ

الْمُقَوَّى



قَلَمًا رِصَاصَ


سَكَكِرٌ مُلَوَّنَةٌ



إِصْنَعْ سُلَّمًا رَقْمِيًّا وَالْعَبْ لُعْبَةً
تَسْتَعْمِلُ أَرْقَامًا «سَالِبَةً» و«مُوجِبَةً».
فِي هَذِهِ اللَّعْبَةِ، الرَّقْمُ الْمُوجِبُ يَعْنِي
«إِصْعَدُ» وَالرَّقْمُ السَّالِبُ يَعْنِي
«إِنْزِلُ».



١ إِسْتِخْدِمِ الْمِسْطَرَةَ
لِتَرْسُمَ خُطُوطًا بَيْنَ قُرْنِ مُرَبَّعِ
الْوَرَقِ الْمُقَوَّى الصَّغِيرِ.



٢ لَوِّنْ كُلَّ

قِسْمٍ، ثُمَّ اغْرِزْ قَلَمَ
رِصَاصٍ عَبْرَ وَسْطِ الْمُرَبَّعِ، حَيْثُ تَتَقَاطَعُ
الْخُطُوطُ. هَذَا هُوَ مَدَوِّمُكَ.




قِسِ الطَّيَّاتِ بِمِسْطَرَةٍ.

٣ إِطْوِ شَقَّةَ الْوَرَقِ الْمُقَوَّى إِلَى ١٥ طَيَّةٍ
دَرَجِيَّةً، عَرْضُ الْوَاحِدَةِ ٣ سَم. افْتَحِ الْوَرَقَةَ
الْمُقَوَّاةَ فَيَكُونُ لَدَيْكَ السُّلَّمُ.

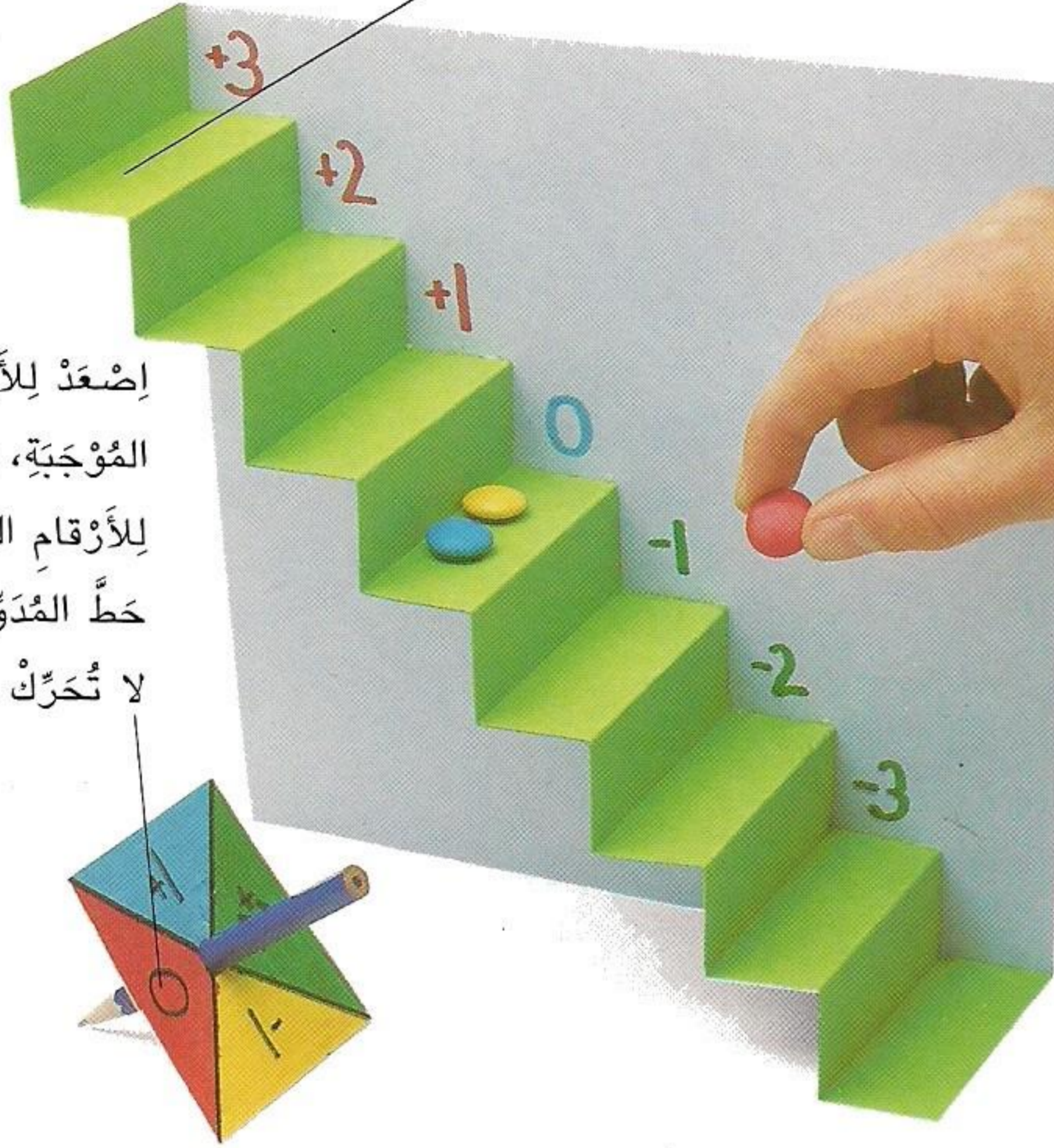
اللاعب الذي يصل إلى
القيمة أولاً يربح اللعبة.



٤ غر السلم إلى
المربع الكبير،
كما هو مبين. حل
الغراء يجف.




٥ رقم درجات السلم من أسفل
إلى أعلى، من ناقص ثلاثة (-3)
إلى زائد ثلاثة (+3). رقم الدرجة
الوسطى (0).



اصعد للأرقام
الموجبة، وانزل
للأرقام السالبة. إذا
خطت المدوم على
لا تحرك عدادك.

٦ لعب اللعبة مع بعض الأصدقاء. ابدأ عند
الدرجة الوسطى. ابرموا المدوم مداورة. حركوا
العداد إلى أعلى أو أسفل كما يبين المدوم.



تحت الصفر

تستخدم موازين الحرارة الصفر والأرقام السالبة. هذا الترمومتر يري
الحرارة بالدرجات المئوية (°م). درجة الصفر المئوية هي الدرجة التي
يتجمد فيها الماء. أي درجة تحت ذلك تكون برقم سالب. على سبيل
المثال، «ناقص ثلاثة» (-3°م) هي ثلاث درجات تحت الصفر.

أيام مُشمسة

ما تحتاج إليه:



أصيص أزهار



فِرْجَار (بِرْجَل)



قَلَمُ رِصَاص



مَعْجُونُ تَشْكِيل



غِراء




وَرَقَةٌ مَقْوَاة




مِقْص

هل بإمكانك أن تستخدم الظلال والأرقام لتعرف الوقت؟ اصنع ساعة ظل بسيطة. إنها تعمل لأن الظلال تُغيّر اتجاهها مع تحرك الشمس عبر السماء.



١ ارسم على الورقة المقواة بالفرجار دائرة كبيرة.



٢ فصل الدائرة، وانقب مركزها.




٤ ضع دائرة الورقة المقواة فوق قلم الرصاص وجرّها إلى قمة أصيص الأزهار.




رَكَزْ قَلَمَ الرِّصَاصِ فِي مَوْضِعِهِ بِمَعْجُونِ التَّشْكِيلِ.

٣ اغرز رأس قلم الرصاص عبر الثقب في قاع أصيص الأزهار. اقلب الأصيص.

أَكْتُبِ الْوَقْتَ إِلَى
جَانِبِ كُلِّ خَطٍّ.




لَا تَنْقُلْ سَاعَتَكَ
الظِّلِيَّةَ. الظِّلُّ يَتَحَرَّكُ
عَبْرَ الْمَوَاضِعِ عِنْدَهَا
كُلَّ يَوْمٍ.



إِذَا تَتَحَرَّكُ
الشَّمْسُ عَبْرَ
السَّمَاءِ، يَتَحَرَّكُ
الظِّلُّ حَوْلَ دَائِرَةِ
الْوَرَقِ الْمُقَوَّى.

٦ هذه هي ساعة
الظِّلِّ الَّتِي صَنَعْتَهَا. بِإِمْكَانِكَ أَنْ
تَعْرِفَ الْوَقْتَ مِنْ وَضْعِ الظِّلِّ عَلَيْهَا.

٥ ضَعُ أَصْيَصَ الْأَزْهَارِ فِي
الخَارِجِ فِي صَبَاحِ يَوْمِ مُشْمِسٍ. وَفِي
كُلِّ سَاعَةٍ، ارْسُمْ خَطًّا حَوْلَ ظِلِّ الْقَلَمِ
عَلَى دَائِرَةِ الْوَرَقِ الْمُقَوَّى.



مِرْوَلَةٌ شَمْسِيَّةٌ

هَذِهِ الْمِرْوَلَةُ (السَّاعَةُ) الشَّمْسِيَّةُ تَعْمَلُ
بِالطَّرِيقَةِ نَفْسِهَا الَّتِي تَعْمَلُ بِهَا سَاعَةُ
الظِّلِّ الَّتِي صَنَعْتَهَا. لَكِنْ لِتَكُونَ أَكْثَرَ
دِقَّةً، يُرَكِّزُ مُؤَشِّرُهَا فِي زَاوِيَةٍ خَاصَّةٍ،
فَيَقَعُ الظِّلُّ فِي الْمَوْضِعِ نَفْسِهِ وَفِي
الْوَقْتِ نَفْسِهِ، طَوَالَ أَيَّامِ السَّنَةِ.



تجارب علمية مبسطة الأرقام والأعداد

هل تعرف كيف تقوم بعمليات حسابية مستخدمًا المسطرة المِزْلَاقِيَّة، أو كيف تعزف لحناً بالأرقام؟
سلسلة جديدة من كتب الأنشطة تجعل من اكتساب العلم تسلية. كتب حافلة بمشروعات وتجارب مبسطة وآمنة يمكن إجراؤها في المدرسة أو في البيت. كل كتاب منها يتناول المبادئ الأساسية في موضوع من موضوعات العلوم. التجارب كلها سهل تتبّعها عبر تعليمات وصور توضيحية تنتقل مع التجربة خطوة خطوة.



01C193265
MY SCIENCE BOOK OF : NUMBERS
(ARABIC BUTTERFLY BOOKS)

مكتبة لبنات ناشرون